

## Zadanie 2

Obliczyć moment bezwładności figury względem osi pionowej i poziomej usytuowanej w środku ciężkości figury.

figura 1

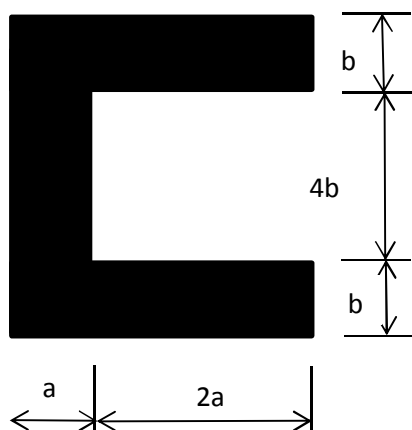


figura 2

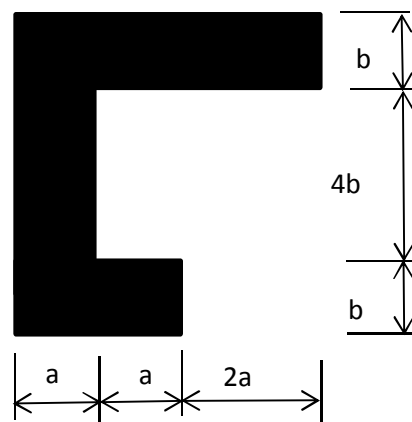
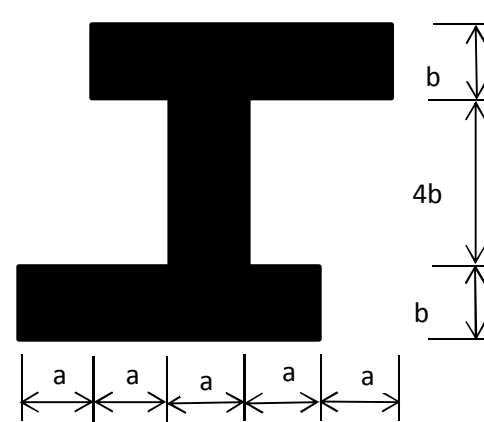


figura 3



lp.	Imię	Nazwisko	figura	a [m]	b [m]
1	Patryk	Buczowski	1	2	1
2	Sebastian	Buga	2	2	1
3	Agnieszka	Dorau	3	2	1
4	Dagmara	Guminiak	1	1	1
5	Andżelika	Janoszczyk	2	1	1
6	Marcin	Janusewicz	3	1	1
7	Monika	Kowalczyk	1	2	2
8	Filip	Kurczych	2	2	2
9	Kamil	Lange	3	2	2
10	Małgorzata	Łacheta	1	3	1
11	Dominik	Materuk	2	3	1
12	Agata	Pabjańczyk	3	3	1
13	Katarzyna	Pisarkiewicz	1	3	2
14	Michał	Raław	2	3	2
15	Dominika	Roszkowska	3	3	2
16	Szymon	Rydzziński	1	2	3
17	Kinga	Sitkowska	2	2	3
18	Piotr	Wasielwski	3	2	3
19	Paulina	Wojciechowska	1	3	3
20	Michał	Wysocki	2	3	3
21	Małgorzata	Żurawska	3	3	3
22	Kamil	Żurawski	1	3	4